



**PRUEBAS PARA LA OBTENCIÓN DEL TÍTULO DE GRADUADO EN EDUCACIÓN
SECUNDARIA OBLIGATORIA DESTINADAS A PERSONAS MAYORES DE DIECIOCHO AÑOS
MAYO 2025**

DATOS DEL ASPIRANTE	CALIFICACIÓN
Apellidos:.....	
Nombre:..... DNI:.....	
Centro:.....	

ÁMBITO SOCIAL

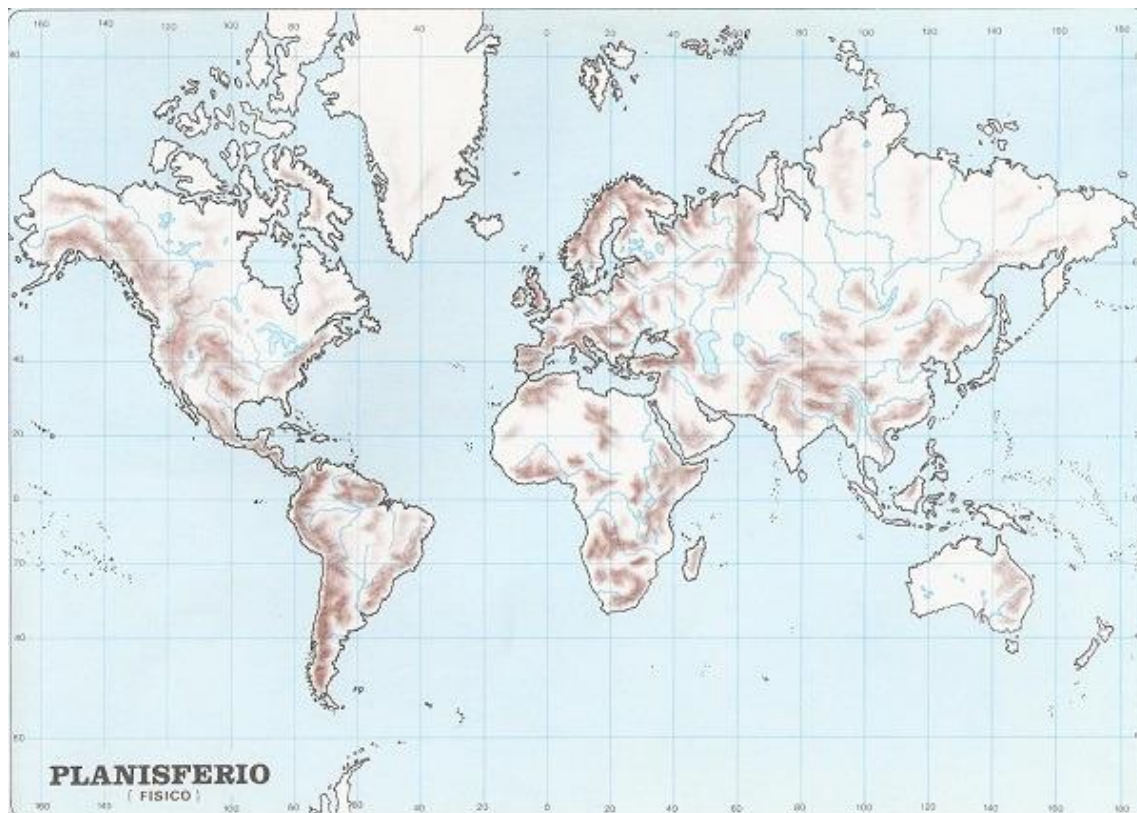
Observaciones:

- Esta prueba se compone de un total de **15 preguntas**.
- No todas las preguntas tienen el mismo valor. La puntuación de cada una de ellas se indica entre paréntesis al final de cada enunciado.
- La calificación final de la prueba será como máximo de **100 puntos**.

CUESTIONES

1. Imagine que un amigo y usted han decidido organizar un viaje por el mundo en el que visitarán 12 lugares de nuestro planeta. Para confeccionar el itinerario con los destinos de su viaje, debe localizarlos en el mapa mudo que aparece debajo usando los números correspondientes a cada lugar (9 puntos) (cada respuesta correcta vale 0,75 puntos):

1. Desierto del Sahara	2. Estrecho de Magallanes	3. Isla de Madagascar	4. Río Danubio
5. Península Escandinava	6. Mar Caspio	7. Montañas Rocosas	8. Indonesia
9. Río Nilo	10. Península de Indochina	11. Montes Alpes	12. Monte Kilimanjaro



2. El año pasado la Vuelta Ciclista a España 2024 se celebró del 17 de agosto al 8 de septiembre, comenzando en Lisboa (Portugal) y finalizando en Madrid. Debe localizar usando los números y/o letras correspondientes en cada mapa las siguientes Comunidades Autónomas y accidentes geográficos que atravesó esta famosa carrera ciclista (8 puntos) (cada respuesta correcta 0,5 puntos).

1. Extremadura	2. Andalucía
3. Galicia	4. Castilla y León
5. Asturias	6. Cantabria
7. País Vasco	8. La Rioja

A. Montes de Toledo	B. Cordillera Penibética
C. Macizo Galaico	D. Cordillera Cantábrica
E. Sistema Ibérico	F. Cuenca del Tajo
G. Cuenca del río Guadalquivir	H. Cuenca del río Miño

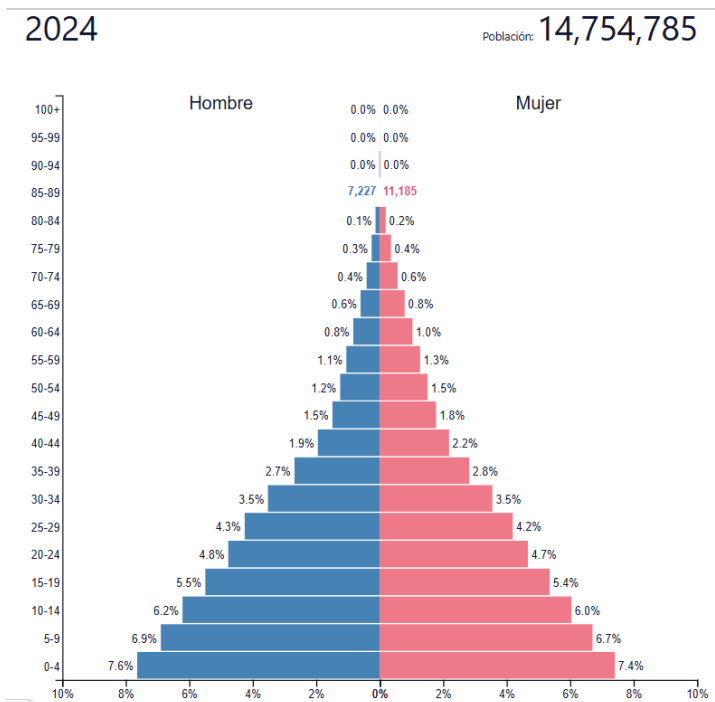




3. Indique la capital de los siguientes países (5 puntos) (cada respuesta correcta 0,5 puntos):

Ucrania:	Bélgica:
Argentina:	Rusia:
Austria:	Italia:
Egipto:	Ecuador:
Rumanía:	Irlanda:

4. Analice la siguiente pirámide de población y conteste a las preguntas (6 puntos) (cada respuesta correcta 1 punto):



- ¿Qué tipo de pirámide es y qué grupo de población (joven, adulta, anciana) predomina?
- ¿Cómo es la tasa de natalidad?
- ¿Cómo es la tasa de mortalidad?
- ¿Y la esperanza de vida?
- ¿Cómo sería el grado de desarrollo de este país? Razone la respuesta.
- ¿A qué tipo de países corresponde esta pirámide?



5. De los siguientes términos geográficos, escriba en el recuadro de la derecha el que hace referencia cada una de las definiciones: DANA, CAUDAL, ARANCEL, PENÍNSULA, MESETA, ARCHIPIÉLAGO, SECANO, ISOTERMAS, LATITUD, MATERIA PRIMA (5 puntos) (cada respuesta correcta 0,5 puntos)

DEFINICIÓN	TÉRMINO GEOGRÁFICO
Líneas que sobre un mapa unen puntos de igual temperatura media	
Volumen del agua que circula por el cauce de un río	
Distancia entre cualquier punto de la superficie terrestre y el Ecuador	
Conjunto de islas agrupadas en una superficie más o menos extensa de mar	
Territorio rodeado de agua por todas partes menos por una, que lo une al continente	
Fenómeno meteorológico en forma de masa de aire que se desprende por completo de una corriente muy fría y que desciende sobre otra de aire caliente, produciendo grandes perturbaciones atmosféricas acompañadas de precipitación muy intensa	
Planicie extensa situada a considerable altura sobre el nivel del mar	
Recursos naturales a partir de los cuales se obtienen productos elaborados o semielaborados	
Sistema de cultivo en el cual el aporte de agua depende solo de las precipitaciones	
Impuesto que se aplica a los bienes que son importados o exportados	

6. En un canal de YouTube al que sube sus vídeos un periodista especializado en cuestiones económicas se mencionan las nuevas actividades laborales que se están desarrollando en los últimos años. Incluya cada actividad laboral en el sector económico que corresponda (5 puntos) (cada respuesta correcta 0,5 puntos):

a) Cultivo de cereales ecológicos.	f) Pesca sostenible en alta mar.
b) Servicios de telemedicina.	g) Fabricación de paneles solares.
c) Producción de ropa con materiales reciclados.	h) Transportes de mercancías en trenes eléctricos.
d) Programación de aplicaciones móviles.	i) Construcción de infraestructuras de hidrógeno.
e) Enseñanza de formación profesional.	j) Extracción de litio para baterías.



SECTOR PRIMARIO	SECTOR SECUNDARIO	SECTOR TERCIARIO

7. Manuel está preparándose para las oposiciones de acceso a la Policía Local de Murcia. Sabe que debe dominar la organización política de España y su encaje en la Unión Europea. Mientras repasa, se plantea las siguientes cuestiones. Ayúdele a responder las preguntas tipo test seleccionando la opción correcta (6 puntos) (cada respuesta correcta 0,6 puntos):

- A. La norma suprema que organiza la vida política en España es:
- a) La Ley Orgánica del Poder Judicial
 - b) La Constitución de 1978
 - c) El Estatuto de Autonomía
 - d) El Reglamento de Régimen Local
- B. Las Cortes Generales, que representan al pueblo español, están compuestas por:
- a) Congreso de los Diputados y Tribunal Constitucional
 - b) Senado y Tribunal Supremo
 - c) Congreso de los Diputados y Senado
 - d) Senado y Audiencia Nacional.
- C. El poder ejecutivo del Estado corresponde a:
- a) El Congreso de los Diputados
 - b) El Rey
 - c) El Gobierno
 - d) El Tribunal Supremo
- D. En el ámbito municipal, el máximo órgano de gobierno es:
- a) La Diputación Provincial
 - b) El Ayuntamiento
 - c) El Gobierno Central
 - d) El Consejo de Estado
- E. España se organiza en:
- a) 17 Comunidades Autónomas y 2 Ciudades Autónomas
 - b) 18 Comunidades Autónomas y 2 Ciudades Autónomas
 - c) 17 Comunidades Autónomas y 3 Ciudades Autónomas
 - d) 16 Comunidades Autónomas y 2 Ciudades Autónomas



- F. En una Comunidad Autónoma, el Gobierno central está representado por:
- a) El Defensor del Pueblo
 - b) El Delegado del Gobierno
 - c) El Presidente de la Comunidad Autónoma
 - d) El Ministro de Interior
- G. La Asamblea Regional de la Región de Murcia tiene su sede en:
- a) Lorca
 - b) Cartagena
 - c) Murcia
 - d) Molina de Segura
- H. El organismo que dirige la política monetaria de los países de la zona euro es:
- a) Banco de España
 - b) Banco Mundial
 - c) Banco Central Europeo
 - d) Fondo Monetario Internacional.
- I. El único país que en la historia de la Unión Europea ha abandonado esta organización supranacional es:
- a) Francia
 - b) Reino Unido
 - c) Irlanda
 - d) Italia
- J. El tratado que dio origen a la Comunidad Económica Europea en 1957 fue el Tratado de:
- a) Lisboa
 - b) París
 - c) Maastricht
 - d) Roma

8. Sitúe en la columna de la derecha el año en el que sucedió el acontecimiento histórico correspondiente (10 puntos) (cada respuesta correcta 1 punto):

1917	711	1453	1812	476	1945	1789	1914	1936	1492
------	-----	------	------	-----	------	------	------	------	------

Caída del Imperio Romano de Occidente	
Guerra Civil Española	
Descubrimiento de América	
Final de la Segunda Guerra Mundial	
Inicio de la Primera Guerra Mundial	
Toma de Constantinopla por los turcos	
Llegada de los musulmanes a la Península Ibérica	
Primera Constitución Española	
Revolución Francesa	
Revolución Rusa	



9. Un grupo de alumnos visita el Museo Arqueológico de Murcia como parte de una actividad cultural organizada por su Centro de Educación de Personas Adultas. Durante el recorrido, la guía del museo propone un reto: identificar correctamente en qué etapa histórica se sitúan algunos personajes y acontecimientos importantes para entender la evolución de las civilizaciones hasta hoy. Sitúe en la tabla cada personaje o acontecimiento histórico en la etapa correspondiente. (10 puntos) (1 punto cada respuesta correcta):

- Fernando VII.
- Pericles.
- Guerra Fría.
- Bifaces de sílex
- Guerra de los Cien Años.
- Reforma Protestante.
- Revolución Industrial.
- Neolítico.
- Alejandro Magno.
- La Ilustración.

PREHISTORIA	EDAD ANTIGUA	EDAD MEDIA	EDAD MODERNA	EDAD CONTEMPORÁNEA

10. Relacione cada concepto histórico con su definición: (6 puntos) (cada respuesta correcta 0,5 puntos)

VASALLAJE	ABSOLUTISMO	FEUDALISMO	PROLETARIADO
ILUSTRACIÓN	BURGUESÍA	NEOLÍTICO	COMUNISMO
DESCOLONIZACIÓN	GUERRA FRÍA	CAPITALISMO	REFORMA PROTESTANTE

Periodo de la Prehistoria (aproximadamente 10.000 - 4.000 a.C.) caracterizado por el desarrollo de la agricultura y la ganadería, la sedentarización y la aparición de las primeras aldeas	
Sistema social, político y económico dominante en Europa occidental durante la Edad Media, basado en relaciones de dependencia personal (vasallaje) entre señores y vasallos, y en la posesión de la tierra como principal fuente de poder.	
Clase social que surgió en las ciudades medievales y que se dedicaba principalmente al comercio y la artesanía. Con el tiempo, adquirió poder económico y social, y jugó un papel clave en las transformaciones de la Edad Moderna.	
Sistema económico y social basado en la propiedad privada de los medios de producción, la libre competencia, la búsqueda de beneficios y la acumulación de capital.	



Movimiento religioso iniciado en el siglo XVI por Martín Lutero, que cuestionó la autoridad del Papa y propuso una nueva interpretación del cristianismo, dando origen a diversas iglesias protestantes.	
Clase social trabajadora que, en el sistema capitalista, no posee medios de producción y obtiene su sustento de la venta de su fuerza de trabajo.	
Periodo de tensión geopolítica entre Estados Unidos y la Unión Soviética (y sus respectivos aliados) desde el final de la Segunda Guerra Mundial hasta la disolución de la URSS en 1991. Se caracterizó por la confrontación ideológica, la carrera armamentística y la ausencia de un conflicto bélico directo a gran escala.	
Pacto o relación de dependencia personal entre un señor feudal (que concede un feudo) y un vasallo (que juraba fidelidad y servicio a cambio de protección y la posesión de la tierra).	
Sistema político en el que el poder del gobernante (generalmente un monarca) es absoluto, sin limitaciones constitucionales ni división de poderes.	
Movimiento intelectual y cultural del siglo XVIII que enfatizó la razón, la ciencia y los derechos individuales, y que influyó en la política, la sociedad y el arte.	
Proceso de independencia de las colonias de las potencias europeas y otras potencias mundiales desde mediados del siglo XX.	
Ideología política y sistema socioeconómico que propugna la abolición de la propiedad privada y la instauración de una sociedad sin clases sociales, donde los medios de producción son de propiedad común.	

11. Lea cuidadosamente el siguiente texto. Luego, responda las preguntas tipo test seleccionando la opción correcta en cada caso: (5 puntos) (cada respuesta correcta 1 punto)

"...A diferencia de otros seres, vivos o inanimados, los hombres o mujeres podemos inventar y elegir en parte nuestra forma de vida. Podemos optar por lo que nos parece bueno, es decir conveniente para nosotros, frente a lo que nos parece malo e inconveniente. Y como podemos inventar y elegir, podemos equivocarnos, que es algo que a los conejos, las abejas y las hormigas no suele pasarles. De modo que parece prudente fijarnos bien en lo que hacemos y procurar adquirir un cierto saber vivir que nos permita acertar. A ese saber vivir, o arte de vivir si prefieres, es a lo que llaman ética..."

(Savater, Fernando. *Ética para Amador*)

A. Según este autor, la ética es:

- a) lo que hacen los seres vivos para no equivocarse.
- b) lo que no le pasa a las hormigas, abeja y conejos.
- c) aquello que nos diferencia de los seres inanimados.
- d) aquello que permite tomar la decisión correcta.



- B. Cuando el autor habla de seres inanimados, se refiere a:
- a) los conejos, las abejas y las hormigas.
 - b) los seres que no tienen ánimo.
 - c) los seres que no se mueven.
 - d) los seres del mundo mineral y vegetal.
- C. Cuando el autor plantea que “los hombres o mujeres podemos *inventar* y *elegir* en parte nuestra forma de vida”, quiere significar que hombres y mujeres.....:
- a) pueden ser muy creativos y selectivos.
 - b) tienen capacidad para determinar su vida.
 - c) intentan definir un estilo de vida.
 - d) parcialmente se inventan qué quieren ser.
- D. En este contexto “*equivocarnos*” significa:
- a) tomar decisiones erróneas.
 - b) no acertar en la solución de un problema.
 - c) juzgar desacertadamente.
 - d) tener una mala opinión de los otros.
- E. Para el autor, el sentido de la expresión “saber vivir” se refiere a:
- a) descubrir el modo de aprovecharse de otros.
 - b) conseguir dinero para pasarla bien.
 - c) obrar de modo que no nos perjudiquemos.
 - d) obrar rectamente para no arrepentirnos

12. Imagine que durante los últimos días ha estado escuchando en la radio diversas noticias sobre la actualidad económica y financiera a nivel nacional e internacional. A continuación se muestran unas frases describiendo algunos de dichos sucesos que deberá completar con el término económico adecuado. (10 puntos) (cada respuesta correcta 1 punto)

- a) Donald Trump, Presidente de los Estados Unidos de América, decidió elevar los aranceles a China hasta el 125 %. Esta medida que busca limitar las importaciones de productos chinos por parte de la población estadounidense es una medida propia del _____
- b) La República Democrática del Congo es un país muy rico en recursos naturales, sobre todo minerales. Entre los minerales más codiciados se encuentran: cobalto, cobre, uranio, oro, diamantes, casiterita y coltán. Por tanto, el Congo es un país que exporta productos agrarios y materias primas. Esta característica se da en los países _____
- c) La Región de Murcia ha convocado para este año 2025 las Oposiciones de Profesores de Enseñanza Secundaria. Aquellos aspirantes que obtengan plaza conseguirán un puesto de trabajo como funcionarios docentes y, por tanto, pasarán a formar parte de los trabajadores que dependen del Estado, es decir, serán trabajadores del sector _____
- d) La subida de los salarios no compensa el incremento de los alquileres y lleva a los españoles a destinar el 47% de sus ingresos a pagar la renta mensual por el alquiler de vivienda. Una de las reglas de oro del sistema económico capitalista que ha influido en la subida de los precios de los alquileres es la _____



- e) En los últimos meses está bajando el tipo de interés que los bancos ofrecen en los préstamos a interés variable. Los préstamos se calculan según el indicador de referencia existente en Europa que se denomina _____
- f) El INE ha confirmado que el valor de lo que se produce en España creció en 2024 en un 3,2%, un ritmo mayor que el 2,7% que se registró en el ejercicio precedente. Este indicador de lo que se produce en nuestro país se conoce como el _____
- g) Ante el elevado déficit público que existe en nuestro país, el Estado español puede financiar ese déficit público emitiendo _____
- h) El IPC general de precios en España arrojó una subida de un 2,8 % durante el año 2024. La subida generalizada del nivel de precios en un país se conoce como _____
- i) España alcanzó el año pasado (2024) su récord histórico de llegada de turistas extranjeros a nuestro país, alcanzando la cifra de 93,8 millones de visitantes foráneos. Uno de los problemas tradicionales del turismo español es la concentración de la actividad durante los meses de verano y determinados periodos vacacionales. A esta característica del turismo, especialmente el de Sol y playa, que supone la concentración de la actividad turística en determinados periodos del año se le denomina _____
- j) En los últimos años la Región de Murcia ha experimentado un descenso del porcentaje de personas que buscan activamente trabajo pero no consiguen un empleo. La tasa que mide la relación entre el número de personas desempleadas y la población activa de un lugar dado en un periodo determinado se denomina _____

13. María tiene 17 años y acaba de comenzar a trabajar a tiempo parcial en una tienda durante los fines de semana. Ha decidido que quiere ahorrar parte de su sueldo para poder comprarse un ordenador en un año. María no sabe mucho sobre cómo gestionar su dinero, por lo que acude a su profesor de la especialidad de economía para recibir algunos consejos sobre seguridad financiera.


Responda a las siguientes preguntas, marcando la opción correcta. (5 puntos) (1 punto cada respuesta correcta)

- A. ¿Qué es lo primero que debe hacer María al empezar a trabajar y recibir su sueldo?**
 - a) Gastar todo su dinero en cosas que le gusten.
 - b) Guardar todo su dinero en una caja en casa.
 - c) Establecer un presupuesto para saber cuánto puede ahorrar y cuánto puede gastar.
 - d) Pedir prestado dinero a sus amigos para comprarse cosas.
- B. María quiere ahorrar para un ordenador que cuesta 600€. Si su sueldo mensual es de 100€, ¿cuánto tiempo le llevará ahorrar todo el dinero si guarda la mitad de su sueldo cada mes para ello?**
 - a) 3 meses.
 - b) 6 meses.
 - c) 12 meses.
 - d) 24 meses.



- C. ¿Qué opción sería una buena estrategia de ahorro para María, además de ahorrar su sueldo completo?**
- a) Dejar su dinero en la cuenta corriente sin ningún plan.
 - b) Invertir todo su dinero en una acción de la bolsa sin saber los riesgos.
 - c) Dividir su sueldo en partes: ahorrar una cantidad fija cada mes y gastar solo lo que queda.
 - d) Gastar todo el dinero ahorrado en el ordenador sin considerar otros gastos.
- D. ¿Por qué es importante que María tenga en cuenta sus gastos imprevistos, como transporte o comida, al planificar su ahorro?**
- a) Porque estos gastos no son importantes y no afectan su capacidad de ahorro.
 - b) Porque debe asegurarse de que puede cubrir estos gastos y no quedarse sin dinero.
 - c) Porque debe gastar más dinero en cosas que no necesita.
 - d) Porque puede ahorrar más si no tiene en cuenta estos gastos.
- E. Si María necesita una cantidad de dinero mayor para su ordenador debido a un aumento de precio, pero quiere ser autosuficiente económicamente, ¿qué debería hacer?**
- a) Asegurarse de que tiene un fondo de emergencia para cubrir los imprevistos.
 - b) Dejar de ahorrar y pedir un préstamo a su familia sin plan de pago.
 - c) Gastar más dinero en cosas innecesarias para reunir más dinero.
 - d) Pedir a sus amigos que le presten el dinero que necesita.

14. Señale con una cruz la respuesta correcta de las siguientes obras artísticas (5 puntos) (0,5 puntos cada respuesta correcta):



NOMBRE DE LA OBRA:

El Hombre de la nariz rota _____

El Pensador _____

El David _____

AUTOR:

Vicent Van Gogh _____

Paul Gauguin _____

Auguste Rodin _____




ESTILO ARTÍSTICO:

Realismo _____

Cubismo _____

Impresionismo _____



	<p>NOMBRE DE LA OBRA: María Antonieta____ La Menina____ La Gioconda____</p> <p>AUTOR: Leonardo Da Vinci ____ Miguel Ángel ____ Rafael ____</p> <p>ESTILO ARTÍSTICO: Renacimiento ____ Barroco ____ Realismo____</p>
	<p>NOMBRE DE LA OBRA: Muchacho serio____ Autorretrato____ Tristeza ____</p> <p>AUTOR: René Magritte ____ Salvador Dalí ____ Pablo Picasso: ____</p> <p>ESTILO ARTÍSTICO: Impresionismo ____ Cubismo ____ Realismo____</p>
	<p>ESTILO ARTÍSTICO: Arte Renacentista____ Arte Bizantino____ Arte Románico____</p>



15. Complete las siguientes frases con los términos de debajo (5 puntos) (0,5 puntos cada respuesta correcta):

Paco de Lucía	Antonio Stradivari	Giussepe Verdi	The Beatles	El concierto de Aranjuez
El Lago de los Cisnes	Las bodas de Figaro	Manuel de Falla	Antonio Vivaldi	La novena sinfonía

- La canción el *Himno a la Alegría* de Miguel Ríos, está basada en _____ compuesta por Beethoven.
- El violín es un instrumento de cuerda. Los violines fabricados por _____ son considerados los mejores del mundo.
- Uno de los músicos y compositores españoles más importantes es el maestro Rodrigo, entre cuyas obras destaca _____
- Uno de los compositores italianos de ópera, de los más importantes de todos los tiempos fue _____, autor de óperas como Aida y La Traviata.
- Entre los músicos del romanticismo ruso destaca Chaikovski, cuya primera composición de ballets encargada por el Teatro Bolshói de Moscú fue _____
- _____ es un músico español considerado un virtuoso de la guitarra y el mejor guitarrista flamenco de todos los tiempos.
- _____ fue la banda británica de rock más famosa de la historia de la música.
- Autor de Las Cuatro Estaciones, concierto para violín y orquesta, _____ es considerado uno de los más grandes compositores barrocos.
- Wolfgang Amadeus Mozart fue un gran músico y compositor que dominó los instrumentos de teclado y el violín y entre sus composiciones de óperas destacó _____
- _____ fue un compositor español, uno de los más importantes de la primera mitad del siglo XX, junto a Isaac Albéniz, Enrique Granados, Joaquín Turina y Joaquín Rodrigo. Entre sus obras más célebres se encuentran la pantomima *El amor brujo* y el ballet *El sombrero de tres picos*.